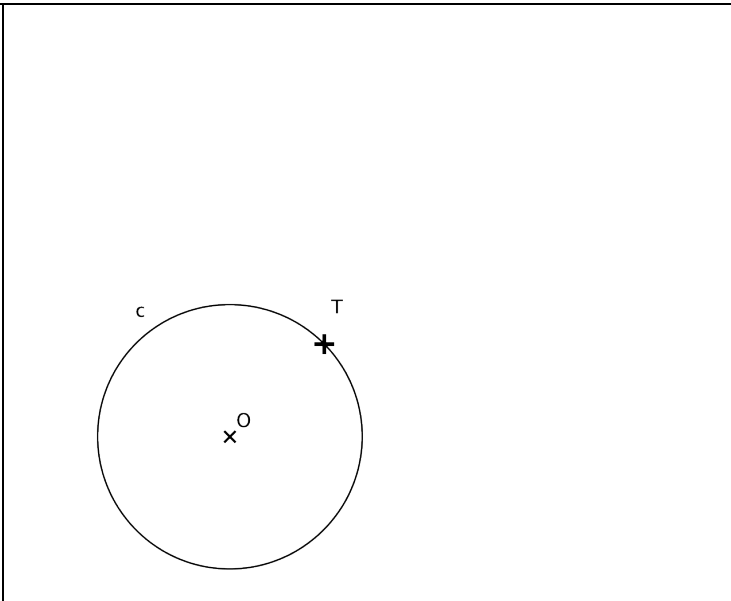

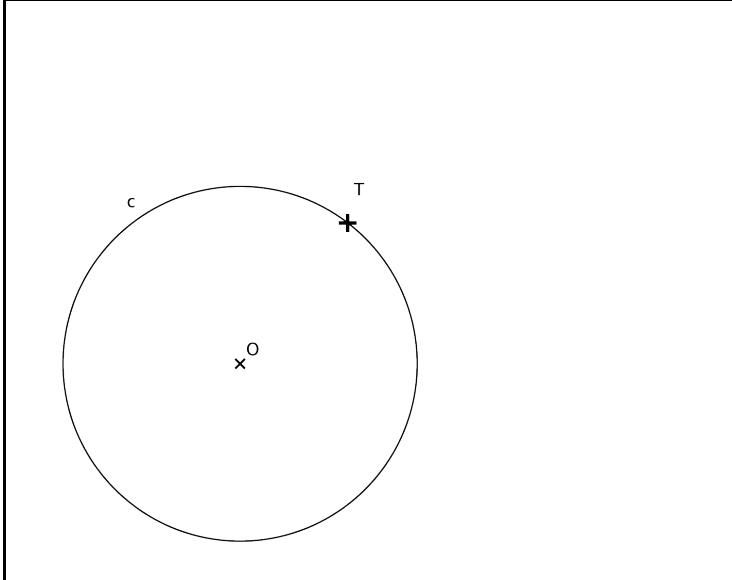
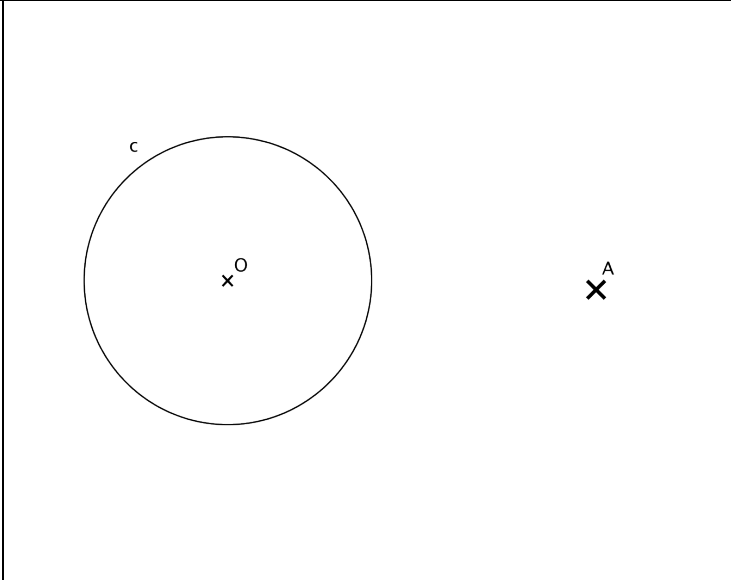

 <p>Trazar la circunferencia de radio 2.5 cm, tangente a la recta r en el punto T.</p>	 <p>Dibujar una circunferencia de radio 2 cm tangente en T a la circunferencia dada.</p>	 <p>Analizar las tangencias en esta imagen.</p>
 <p>Dibujar una recta tangente a c en el punto T.</p>	 <p>Trazar desde A las rectas tangentes a la circunferencia.</p>	 <p>Analizar las tangencias en esta imagen.</p>
<p>Alumno:</p>		<p>Calificación:</p>